



THẦY GIÁO
CHÀO MỪNG CÁC EM ĐẾN VỚI TIẾT HỌC HÔM NAY!

TOÁN - LỚP 5B

Tiết 6: ÔN TẬP PHÂN SỐ (Tiết 2)

CHÚC CÁC EM MỘT TIẾT HỌC THU ĐƯỢC NHIỀU KẾT QUẢ CAO!

GIÁO VIÊN THỰC HIỆN TIẾT DẠY: QUAN VĂN THẮNG

Giáo viên thiết kế và thực hiện: Quan Văn Thắng



Sĩ số: 17
Vắng: 0

Thứ hai ngày 16 tháng 9 năm 2024
Toán

KHỞI ĐỘNG

Các em hãy chia sẻ trải nghiệm ở tiết học trước với cả lớp.

Cả lớp so sánh hai phân số đã quy đồng trong trải nghiệm.




Sĩ số: 17

Vắng: 0

Thứ hai ngày 16 tháng 9 năm 2024

Toán

Tiết 6: Ôn tập phân số (Tiết 2 - Trang 12)



Sĩ số: 17
Vắng: 0

Thứ hai ngày 16 tháng 9 năm 2024
Toán
Tiết 6: Ôn tập phân số (Tiết 2 - Trang 12)

1

> ; < ; =

a) $\frac{3}{4} > \frac{7}{12}$

$\frac{9}{5} < 2$

b) $\frac{8}{5} > \frac{8}{7}$

$\frac{7}{6} < \frac{29}{24}$

c) $\frac{6}{5} = \frac{12}{10}$

$3 > \frac{17}{8}$

Sĩ số: 17

Vắng: 0

Thứ hai ngày 16 tháng 9 năm 2024

Toán

Tiết 6: Ôn tập phân số (Tiết 2 - Trang 12)

2

Chọn câu trả lời đúng

a) Phân số nào dưới đây lớn hơn 1?

A. $\frac{16}{17}$

B. $\frac{31}{29}$

C. $\frac{90}{100}$

A.
 $\frac{120}{125}$

Sĩ số: 17

Vắng: 0

Thứ hai ngày 16 tháng 9 năm 2024

Toán

Tiết 6: Ôn tập phân số (Tiết 2 - Trang 12)

2

Chọn câu trả lời đúng

b) Phân số nào dưới đây bé hơn phân số $\frac{4}{7}$?

A. $\frac{5}{7}$

B. $\frac{20}{35}$

C. $\frac{13}{21}$

A. $\frac{12}{28}$

Sĩ số: 17

Vắng: 0

Thứ hai ngày 16 tháng 9 năm 2024

Toán

Tiết 6: Ôn tập phân số (Tiết 2 - Trang 12)

2

Chọn câu trả lời đúng

c) Phân số nào dưới đây lớn hơn phân số $\frac{5}{8}$?

A. $\frac{10}{16}$

B. $\frac{25}{32}$

C. $\frac{13}{24}$

A. $\frac{3}{8}$



Cho các phân số $\frac{3}{4}$; $\frac{7}{12}$; $\frac{20}{16}$; $\frac{19}{24}$.Viết các phân số đã cho theo thứ tự:

$\frac{18}{24}$ $\frac{14}{24}$

a) Từ bé đến lớn.

$\frac{7}{12}$; $\frac{3}{4}$; $\frac{19}{24}$; $\frac{20}{16}$

b) Từ lớn đến bé.

$\frac{20}{16}$; $\frac{19}{24}$; $\frac{3}{4}$; $\frac{7}{12}$




Sĩ số: 17
Vắng: 0

Thứ hai ngày 16 tháng 9 năm 2024
Toán
Tiết 6: Ôn tập phân số (Tiết 2 - Trang 12)

Vận dụng, trải nghiệm



Cho biết số học sinh khối 5 tham gia các môn thể thao ở Câu lạc bộ thể thao của một số trường tiểu học như sau:



Cầu lông: $\frac{1}{3}$ số học sinh của khối 5



Bóng đá: $\frac{2}{5}$ số học sinh của khối 5




Võ: $\frac{1}{5}$ số học sinh của khối 5



Bóng rổ: $\frac{4}{15}$ số học sinh của khối 5

Trong các môn thể thao trên, môn nào được học sinh khối 5 của trường tiểu học đó tham gia nhiều nhất?





Cầu lông: $\frac{1}{3}$ số học sinh của khối 5



Bóng đá: $\frac{2}{5}$ số học sinh của khối 5



Võ: $\frac{1}{5}$ số học sinh của khối 5



Bóng rổ: $\frac{4}{15}$ số học sinh của khối 5

Bài giải

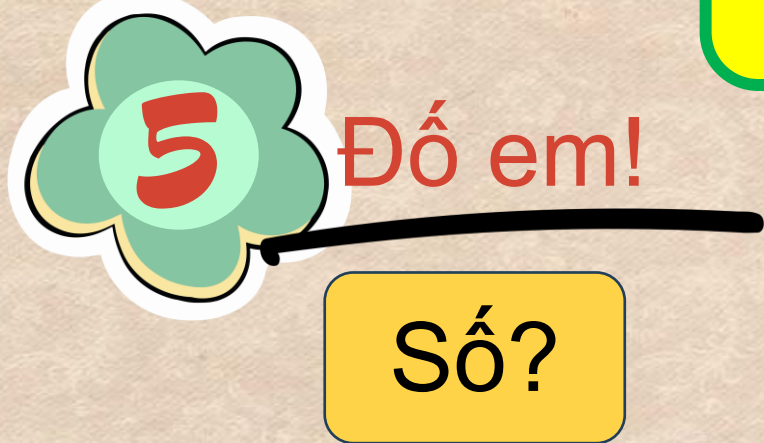
$$\frac{1}{3} = \frac{1 \times 5}{3 \times 5} = \frac{5}{15} \quad ; \quad \frac{2}{5} = \frac{2 \times 3}{5 \times 3} = \frac{6}{15} \quad ; \quad \frac{1}{5} = \frac{1 \times 3}{5 \times 3} = \frac{3}{15}$$

$$\text{Vì } \frac{6}{15} > \frac{5}{15} > \frac{4}{15} > \frac{3}{15} \quad \text{nên } \frac{2}{5} > \frac{1}{3} > \frac{4}{15} > \frac{1}{5}$$

Vậy trong các môn thể thao trên, môn **bóng đá** được học sinh khối 5 của trường tiểu học đó tham gia nhiều nhất.

Sĩ số: 17
Vắng: 0

Thứ hai ngày 16 tháng 9 năm 2024
Toán
Tiết 6: Ôn tập phân số (Tiết 2 - Trang 12)



$$\frac{3}{8} < \frac{4}{8} < \frac{4}{7}$$

TRƯỜNG TIỂU HỌC KHANG NINH

TIẾT HỌC KẾT THÚC!

Chúc các em vui, khỏe, học tập tốt!

NGƯỜI THỰC HIỆN TIẾT DẠY: QUAN VĂN THẮNG

Giáo viên thiết kế và thực hiện: Quan Văn Thắng